



PREFEITURA MUNICIPAL DE
ALAGOINHA - PB

NÍVEL SUPERIOR

CARGO:

ARQUITETO

EXAME GRAFOTÉCNICO:

(Transcreva a frase abaixo no local indicado na sua Folha de Respostas)

"Toda conquista começa com a decisão de tentar!"
Gail Devers

INSTRUÇÕES:

- 01 Verifique se este caderno de provas contém **40 (quarenta)** questões de múltipla escolha, sendo Português de **01 a 15**, Raciocínio Lógico de **16 a 25** e Conhecimentos Específicos de **26 a 40**.
- 02 Observe se há falhas ou imperfeições gráficas que causem dúvidas. Caso existam, comunique imediatamente ao Fiscal de Sala.
- 03 Verifique se os dados existentes na Folha de Respostas conferem com os dados do Cartão de Inscrição e da etiqueta afixada na sua carteira.
- 04 Esta Prova tem duração de **4 (quatro)** horas. Não é permitida a saída do candidato antes de esgotado o tempo mínimo de **2 (duas)** horas.
- 05 É vetado, durante a prova, o intercâmbio ou empréstimo de material de qualquer natureza entre os candidatos, bem como o uso de celulares, calculadoras e/ou qualquer outro tipo de equipamento eletrônico. A fraude, ou tentativa, a indisciplina e o desrespeito às autoridades encarregadas dos trabalhos são faltas que eliminam o candidato.
- 06 **Assine**, ao sair da sala, a **Lista de Presença** e entregue o seu Caderno de Prova e a Folha de Respostas, devidamente assinados, ao Fiscal de Sala.





PORTUGUÊS

Leia o texto a seguir para responder às questões de 1 a 6.

Texto 01

Baleia

- 1 A cachorra Baleia estava para morrer. Tinha emagrecido, o pelo caíra-lhe em vários pontos, as
 2 costelas avultavam num fundo róseo, onde manchas escuras supuravam e sangravam, cobertas de
 3 moscas. As chagas da boca e a inchação dos lábios dificultavam-lhe a comida e a bebida.
 4 Por isso Fabiano imaginara que ela estivesse com um princípio de hidrofobia e amarrara-lhe
 5 no pescoço um rosário de sabugos de milho queimados. Mas Baleia, sempre de mal a pior, roçava-
 6 se nas estacas do curral ou metia-se no mato, impaciente, enxotava os mosquitos sacudindo as
 7 orelhas murchas, agitando a cauda pelada e curta, grossa na base, cheia de moscas, semelhante a
 8 uma cauda de cascavel.
 9 Então Fabiano resolveu matá-la. Foi buscar a espingarda de pederneira, lixou-a, limpou-a com
 10 o saca-trapo e fez menção de carregá-la bem para a cachorra não sofrer muito.
 11 Sinhá Vitória fechou-se na camarinha, rebocando os meninos assustados, que adivinhavam
 12 desgraça e não se cansavam de repetir a mesma pergunta:
 13 - Vão bulir com a Baleia?
 14 Tinham visto o chumbeiro e o polvarinho, os modos de Fabiano afligiam-nos, davam-lhes a
 15 suspeita de que Baleia corria perigo.

RAMOS, Graciliano. Vidas secas. Rio de Janeiro: Record, 2002. p. 85. (Fragmento)

01ª QUESTÃO

Em relação à cachorra Baleia, pode-se afirmar:

- I- Ela era considerada “parte integrante” da família, vista como uma pessoa a quem eles amavam e não queriam perder.
 II- Por ser tão importante para a família, esta preferia vê-la morrer aos poucos a sacrificá-la.
 III- Primeiro Fabiano tentou ajudar a cachorra, depois resolveu acabar com a dor dela.
 IV - O nome Baleia, no título, por ser nome de animal, escrito com letra maiúscula, está em desacordo com a norma culta da língua.

Está(ão) CORRETA(S), apenas:

- a) II e III
 b) I e IV
 c) IV
 d) I e III
 e) I, III e IV

02ª QUESTÃO

Em relação ao tipo de discurso utilizado no trecho:

“Sinhá Vitória fechou-se na camarinha, rebocando os meninos assustados, que adivinhavam desgraça e não se cansavam de repetir a mesma pergunta:

- Vão bulir com a Baleia?” (linhas 11-13), podemos classifica-lo corretamente como:

- a) Referenciada em forma de alusão.
 b) Citado, predominantemente, em sua forma indireta, com verbo *sentiendi*.
 c) Referenciada em forma de paráfrase.
 d) Citado, em sua forma canônica direta.
 e) Citado, predominantemente, em discurso indireto livre.

**03ª QUESTÃO**

As seqüências linguísticas constituem um texto se houver, entre outros recursos, o emprego de conectores gramaticais adequados que estabelecem nexos entre elas ou remetem a certas palavras ou enunciados desse mesmo texto. Marque (V) ou (F), conforme sejam verdadeiras ou falsas as afirmações a seguir quanto aos nexos e referências do texto.

- () No primeiro parágrafo, o pronome “lhe” (linha 1) é empregado duas vezes, tendo o mesmo referente, e ambos os registros representam elos coesivos referenciais.
- () O pronome relativo “onde” (linha 2) estabelece uma relação semântica de tempo, por isso, não representa um elo de coesão.
- () O pronome “se” (linha 6), em seus dois registros, equivale a “si mesma”, daí o sentido de reciprocidade.
- () No segundo parágrafo o conector “mas” (linha 5) expressa uma oposição em relação ao que foi dito anteriormente.
- () O terceiro parágrafo é iniciado com um conector sequencial e expressa uma relação de finalidade em relação ao parágrafo anterior.

Está CORRETA a alternativa que contém a seqüência:

- a) F, F, V, V, F.
- b) V, F, F, V, F.
- c) V, F, V, F, F.
- d) F, F, F, V, V.
- e) V, F, V, V, V.

04ª QUESTÃO

Sobre o Texto 01, pode-se afirmar:

- I - É coerente, uma vez que as ideias estão articuladas em uma seqüência lógica, que permite a compreensão do contexto de forma clara e completa.
- II - É incoerente, uma vez que há ideias contraditórias: Fabiano, de início não quer matar a cachorra Baleia, em seguida, decide matá-la.
- III - Na descrição da cachorra Baleia, no primeiro parágrafo, houve a supremacia quanto ao uso dos adjetivos, com o objetivo de mostrar o estado miserável em que o animal se encontrava.
- IV - É predominantemente argumentativo, pois defende o ponto de vista do sofrimento de uma família com a morte da cachorra, animal de estimação.

Está(ão) CORRETA(S), apenas:

- a) I e IV
- b) II e III
- c) I e III
- d) I, II e III
- e) I

05ª QUESTÃO

Em relação às estruturas, às ideias e à descrição gramatical do Texto 01, assinale a opção CORRETA.

- a) “Os modos de Fabiano afligiam-nos, **davam**-lhes a suspeita de que Baleia corria perigo.” (linhas 14-15). O verbo destacado é intransitivo.
- b) “As chagas da boca e a inchação dos beiços dificultavam-lhe a comida e a bebida.” (linha 3). O sujeito sintático deste enunciado é classificado como indeterminado.
- c) “Por isso Fabiano **imaginara** que ela estivesse com um princípio de hidrofobia...” (linha 4). O verbo destacado exprime uma ideia de certeza.
- d) “A cachorra Baleia estava **para** morrer” (linha 1). A preposição destacada exprime um valor semântico de finalidade.
- e) Ao aceitar passivamente a decisão do marido no que se refere à Baleia, Sinhá Vitória demonstra ser indiferente ao animal e preocupar-se exclusivamente com seus filhos.



06ª QUESTÃO

Marque a alternativa em que o sentido contextual das palavras em destaque está ERRADO.

- a) “Tinham visto o chumbeiro e o **polvarinho**, os modos de Fabiano...” (linha 14) = frasco para levar pólvora.
- b) “Onde manchas escuras **supuravam** e sangravam, cobertas de moscas...” (linha 2) = formavam pus.
- c) “Foi buscar a espingarda de **pederneira**...” (linha 9) = pedra que produz faíscas quando atritada em peças de metal.
- d) “Lixou-a, limpou-a com o **saca-trapo**...” (linhas 9-10) = Instrumento de limpeza de resíduos que ficam nas espingardas.
- e) “Sinhá Vitória fechou-se na **camarinha**...” (linha 11) = cama pequena.

07ª QUESTÃO

Leia as placas abaixo e responda o que se pede:

Placa 01



Placa 02



Com base nas placas acima, julgue cada uma das afirmações abaixo e, em seguida, responda o que se pede:

- I- A concordância verbal presente na placa 01 respeita a norma padrão. O sujeito do enunciado é indeterminado.
- II- A concordância verbal presente na placa 01 desrespeita a norma padrão. O sujeito do enunciado é “apartamentos”
- III- A concordância nominal presente no enunciado na placa 02 desrespeita a norma padrão.
- IV- A concordância nominal presente no enunciado da placa 02 respeita a norma padrão.

Está(ão) CORRETA(S), apenas:

- a) I e III
- b) I, II e III
- c) II e III
- d) III
- e) IV

Leia o texto a seguir para responder às questões de 8 a 13.

Texto 02

Por que, com o tempo, os pães endurecem e os biscoitos amolecem?

- 1 Alguns alimentos têm as características modificadas quando entram em contato com o ar
- 2 porque ocorre uma troca de umidade. Os pães ficam duros porque têm muita água, e os biscoitos
- 3 amolecem devido ao fato de quase não levarem água.
- 4 "Isso decorre da própria diferença na composição desses produtos", afirma a química Cláudia
- 5 Moraes de Rezende, da Universidade Federal do Rio de Janeiro (UFRJ). O biscoito que fica exposto
- 6 ao ar absorve a umidade e perde a crocância. Em comparação, o pão francês tende a perder água e
- 7 ficar duro. A quantidade de açúcar, existente na composição de pães e biscoitos, também faz
- 8 diferença. "Os biscoitos têm bastante, o que favorece a absorção de água. Já o pãozinho tem pouco
- 9 açúcar e bastante amido. Este último sofre modificações na sua organização estrutural, que
- 10 estimulam o endurecimento", diz. Para não perder o apetite na hora do lanche, nada melhor do que
- 11 devorar o pão francês bem quentinho, assim que ele chegar da padaria. Quanto aos biscoitos, a dica
- 12 é mantê-los guardados na embalagem, em pote de vidro ou dentro da geladeira à espera de serem
- 13 consumidos.

**08ª QUESTÃO**

Em relação às estruturas, às ideias e à descrição gramatical do Texto 02, assinale a opção CORRETA.

- a) “A quantidade de açúcar, existente na composição de pães e biscoitos, **também** faz diferença.” (linhas 7-8). A palavra destacada expressa uma relação semântica de oposição.
- b) “Em comparação, o pão francês tende a perder água e ficar duro” (linhas 6-7). As relações de coerência e a correção gramatical do texto seriam preservadas se a preposição “a”, logo depois da forma verbal “tende”, fosse substituída pela preposição “de”.
- c) A forma verbal “têm” (linha 1) está no singular e concorda com “Muita água”.
- d) “...dentro da geladeira à espera de serem consumidos.” (linhas 12-13), o sinal indicativo de crase nesse enunciado é optativo.
- e) “Os biscoitos têm bastante” (linha 8), nesse enunciado está implícita uma palavra que se refere a uma situação citada anteriormente.

09ª QUESTÃO

Para articular as ideias do texto, utilizamos diferentes mecanismos de combinação oracional. Assim, podemos afirmar sobre as estruturas sintáticas que formam o texto que:

- I- A estrutura “quando entram em contato com o ar...”, (linha 1) expressa uma relação de tempo, por isso é uma oração subordinada adverbial temporal.
- II- A relação de sentido expressa entre a oração adverbial introduzida pelo conector “porque” e a oração principal, na estrutura “Os pães ficam duros porque têm muita água,” (linha 2) é de concessão.
- III- “**Para** não perder o apetite na hora do lanche, nada melhor do que devorar o pão francês bem quentinho” (linhas 10 – 11). A palavra destacada expressa finalidade.

Está(ão) CORRETA(S):

- a) Apenas III.
- b) Apenas I e III.
- c) Apenas II e III.
- d) Apenas II.
- e) I, II e III.

10ª QUESTÃO

Julgue os itens a seguir, de acordo com o Texto 02.

- I- O uso de aspas em “Isso decorre da própria diferença na composição desses produtos” (linha 4), denota o uso da linguagem não-padrão.
- II- Por ser do tipo narrativo, o texto dispensa o uso de objetividade e clareza.
- III- A palavra “crocância” (linha 6), sem prejuízo de sentido para o contexto, poderia ser substituída pela expressão “que faz barulho”.
- IV- “... nada melhor do que **devorar** o pão francês bem quentinho...” (linhas 10-11), a palavra destacada, foi usada em sentido conotativo.

Está(ão) CORRETA(S), apenas:

- a) IV
- b) I
- c) I e IV
- d) II e III
- e) I e IV

11ª QUESTÃO

Em: “Este último sofre modificações na sua organização estrutural, **que** estimulam o endurecimento” (linhas 09-10), o conectivo destacado pode ser trocado, sem prejuízo de sentido e sem ferir a norma culta da língua, por:

- a) por que
- b) as quais
- c) a qual
- d) em qual
- e) por qual



RACIOCÍNIO LÓGICO

16ª QUESTÃO

Considere as figuras da sequência abaixo. Qual é a próxima figura



?



17ª QUESTÃO

As violetas são mais baratas do que os girassóis. Não tenho dinheiro suficiente para comprar duas dúzias de violetas. Logo,

- a) Não tenho dinheiro suficiente para comprar uma dúzia de violetas.
- b) Tenho dinheiro suficiente para comprar uma dúzia de violetas.
- c) Não tenho dinheiro suficiente para comprar duas dúzias de girassóis.
- d) Não tenho dinheiro suficiente para comprar meia dúzia de girassóis.
- e) Tenho dinheiro suficiente para comprar uma dúzia de girassóis.

18ª QUESTÃO

Marta e Carlos são amigos e possuem uma alternativa bastante peculiar de se comunicarem entre si. Certa vez, um deles mandou a seguinte mensagem ao outro:

ADIV ED ONA MUSIAM ROP SNEBARAP

A mensagem trata de:

- a) Uma tempestade.
- b) Um contrato de compra.
- c) Um casamento
- d) De um aniversário.
- e) Um acidente

19ª QUESTÃO

Assinale a alternativa em que se chega a uma conclusão por processo de dedução.

- a) Todos os cavalos são pretos, então este cavalo é preto.
- b) Vejo um cavalo preto, outro cavalo preto, outro cavalo preto ... então todos os cavalos pretos são pretos.
- c) Vi um cavalo, então ele é preto.
- d) Vi dois cavalos pretos, então outros cavalos devem ser pretos.
- e) Todos os cavalos são pretos, então este cavalo pode ser preto.

**20ª QUESTÃO**

Se você estudar, então terá êxito na prova. Assim sendo,

- a) mesmo que estude, você não terá êxito na prova.
- b) seu estudo é condição suficiente para ter êxito na prova.
- c) se você não estudar, então não terá êxito na prova.
- d) você terá êxito na prova só se estudar.
- e) seu estudo é condição necessária para ter êxito na prova.

21ª QUESTÃO

A negação da afirmação condicional **se estiver fazendo sol, eu levo o protetor solar** é:

- a) Não está fazendo sol e eu não levo o protetor solar.
- b) Se não estiver fazendo sol, eu levo o protetor solar.
- c) Não está fazendo sol e eu levo o protetor solar.
- d) Está fazendo sol e eu não levo o protetor solar.
- e) Se estiver fazendo sol, eu não levo o protetor solar.

22ª QUESTÃO

Se José não bebe, ele visita o irmão. Se José bebe, ele recita versos. Se José não visita o irmão, ele não recita versos. Se José recita versos, ele não visita o irmão. Segue-se, portanto, que José:

- a) Não bebe, não visita o irmão, recita versos.
- b) Bebe, visita o irmão, não recita versos.
- c) Não bebe, visita o irmão, não recita versos.
- d) Não bebe, não visita o irmão, não recita versos.
- e) Bebe, não visita o irmão, recita versos.

23ª QUESTÃO

Seja a sentença aberta $A: (\sim p \vee q) \leftrightarrow \square$ e, a sentença $B: \text{Se o espaço } \square \text{ for ocupado por uma ... (I) ..., a sentença A será uma ... (II) ...}$. A sentença B se tornará verdadeira se I e II forem substituídos, respectivamente, por:

- a) Contingência e contradição.
- b) Contingência e contingência.
- c) Contradição e tautologia.
- d) Tautologia e contingência.
- e) Tautologia e contradição.

24ª QUESTÃO

Carlos foi caminhar e desmaiou. Logo, ir caminhar faz Carlos desmaiar. Trata-se aí de:

- a) Uma distorção metonímica.
- b) Uma conclusão verdadeira, pois os acontecimentos foram sucessivos.
- c) Um paradoxo, pois a ideia é contrária à intuição comum.
- d) Um sofisma.
- e) Uma falácia, pois concluiu-se, erroneamente, que o acontecimento anterior será sempre causa do posterior.

25ª QUESTÃO

Considere a seguinte tabela-verdade:

$p \rightarrow q$	p	$p \wedge q$	$p \vee q$	$((p \rightarrow q) \vee p)$
V	V	V	V	?
F	V	F	V	
V	F	F	V	
V	F	F	F	

Qual das alternativas corresponde ao resultado da operação lógica?

- a) VFVF
- b) FFFF
- c) VVFF
- d) FFVV
- e) VVVV



CONHECIMENTOS ESPECÍFICOS

26ª QUESTÃO

Acerca da regulamentação do exercício da Arquitetura e Urbanismo, assinale a alternativa INCORRETA:

- a) A carteira profissional de arquiteto e urbanista não possui fé pública, mas constitui prova de identidade civil para todos os fins legais.
- b) A pretensão de punição das sanções disciplinares, a contar da data do fato, prescreve em 5 (cinco) anos.
- c) São sanções disciplinares: advertência, suspensão, cancelamento do registro e multa.
- d) Constitui infração disciplinar não efetuar Registro de Responsabilidade Técnica quando for obrigatório.
- e) Uma das atividades e atribuições do arquiteto e urbanista consiste na realização de perícias.

27ª QUESTÃO

Considera-se pessoa com deficiência aquela que tem impedimento de longo prazo de natureza física, mental, intelectual ou sensorial, o qual, em interação com uma ou mais barreiras, pode obstruir sua participação plena e efetiva na sociedade em igualdade de condições com as demais pessoas. (Artigo 2º do Estatuto da Pessoa com Deficiência). Assinale a alternativa INCORRETA quanto à acessibilidade das pessoas com deficiência às edificações:

- a) As escadas devem ter no mínimo um patamar a cada 3,20 m de desnível e sempre que houver mudança de direção.
- b) As rampas devem possuir corrimão de apenas uma altura em cada lado.
- c) A largura livre mínima recomendável para as rampas em rotas acessíveis é de 1,50 m.
- d) A largura mínima para escadas em rotas acessíveis é de 1,20 m.
- e) Nas escadas de rotas acessíveis para pessoas portadoras de necessidades especiais, quando houver bocel ou espelho inclinado, a projeção da aresta pode avançar no máximo 1,5 cm sobre o piso abaixo.

28ª QUESTÃO

Assinale, entre os comandos de AutoCAD a seguir, aquele que pode ser utilizado para isolar *layers* sem precisar desligar manualmente todas as outras.

- a) laydel.
- b) layuniso.
- c) layon.
- d) layiso.
- e) Só é possível isolar *layers* manualmente.

29ª QUESTÃO

A política urbana tem por objetivo ordenar o pleno desenvolvimento das funções sociais da cidade e da propriedade urbana. Para tanto, o Estatuto da Cidade estabelece, dentre outras, as seguintes diretrizes gerais, EXCETO:

- a) Recuperação dos investimentos do Poder Público de que tenha resultado a valorização de imóveis urbanos.
- b) Justa distribuição dos benefícios e ônus decorrentes do processo de urbanização.
- c) Oferta de equipamentos urbanos e comunitários, transporte e serviços públicos adequados aos interesses e necessidades da população e às características locais.
- d) Proteção, preservação e recuperação do meio ambiente natural e construído, do patrimônio cultural, histórico, artístico, paisagístico e arqueológico.
- e) Estudo prévio de impacto ambiental (EIA) e estudo prévio de impacto de vizinhança (EIV).

30ª QUESTÃO

O parcelamento do solo urbano poderá ser feito mediante loteamento ou desmembramento. Considera-se loteamento a subdivisão de gleba em lotes destinados à edificação, com abertura de novas vias de circulação, de logradouros públicos ou prolongamento, modificação ou ampliação das vias existentes. Ressalvadas as hipóteses de loteamentos destinados à urbanização específica ou à edificação de conjuntos habitacionais de interesse social, os lotes terão área mínima de:

- a) 125 m².
- b) 120 m².
- c) 115 m².
- d) 110 m².
- e) 105 m².

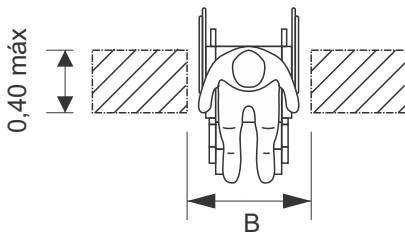
**31ª QUESTÃO**

As alvenarias são os sistemas construtivos mais antigos existentes. Sobre o tema, marque a alternativa INCORRETA:

- a) As alvenarias não têm a função unicamente de dividir ambientes e isolar as coberturas da ação das intempéries e dos predadores.
- b) Na alvenaria estrutural, a padronização das unidades ou blocos é condição principal para eficácia e segurança do sistema construtivo, já que a modulação do projeto, no sentido vertical e horizontal, é condição primeira.
- c) Na alvenaria de vedação, nas estruturas em concreto armado ou aço, os espaços são preenchidos com elementos sem a função estrutural de sustentação, apenas suportando seu peso próprio.
- d) A alvenaria pode ser entendida como um componente construído em obra pela união entre unidades (blocos e tijolos) e o elemento de ligação (argamassa de assentamento), formando um conjunto monolítico e estável.
- e) A alvenaria ciclópica normalmente é executada com pedras de grandes diâmetros assentadas com argamassa de cimento, cal e areia, não podendo ser assentada com a utilização de barro.

32ª QUESTÃO

Acerca da área de circulação e manobra de pessoas em cadeiras de rodas, a NBR 9050:2015 estabelece a largura mínima necessária para a transposição de obstáculo isolado com extensão de no máximo 0,40 m. Assinale a alternativa que corresponde a essa dimensão, representada pela letra B na figura abaixo.



- a) 0,70 m.
- b) 0,90 m.
- c) 1,00 m.
- d) 0,80 m.
- e) 1,10 m.

33ª QUESTÃO

No AutoCAD, a ferramenta *object snaps* (Função OSNAP) serve para selecionar pontos notáveis de objetos já desenhados na tela. Essa função pode ser ligada ou desligada com a tecla:

- a) F8
- b) F3
- c) F5
- d) F6
- e) F7

34ª QUESTÃO

O direito de construir não é absoluto, devendo ser exercido dentro de certos limites. Com base nisso, as edificações localizadas na zona rural não poderão ser levantadas a menos de:

- a) Dois metros do terreno vizinho.
- b) Três metros do terreno vizinho.
- c) Um metro do terreno vizinho.
- d) Um metro e meio do terreno vizinho.
- e) Dois metros e meio do terreno vizinho.

35ª QUESTÃO

O adequado desempenho térmico repercute no conforto das pessoas e em condições adequadas para o sono e atividades normais em uma habitação, contribuindo ainda para a economia de energia. Acerca do tema, assinale a alternativa CORRETA:

- a) Como a função das aberturas é permitir a saída do ar quente, elas devem ser feitas na parte mais baixa do ambiente.
- b) O desempenho térmico depende de diversas características do local da obra (topografia, temperatura e umidade do ar, direção e velocidade do vento, etc.), mas são irrelevantes as características da edificação, a exemplo dos materiais constituintes e número de pavimentos.
- c) Os critérios de desempenho térmico são estabelecidos com base em condições naturais de insolação e ventilação, além do condicionamento artificial (refrigeração ou calefação).
- d) A ventilação de um ambiente é entendida como a troca de ar externo por ar interno.
- e) A sensação de conforto térmico depende muito das condições de ventilação dos ambientes, com grande influência do posicionamento e dimensões das aberturas das janelas.

**36ª QUESTÃO**

Acerca do parcelamento do solo urbano, analise as seguintes assertivas:

- I- Considera-se desmembramento a subdivisão de gleba em lotes destinados à edificação, com aproveitamento do sistema viário existente, ainda que implique na abertura de novas vias e logradouros públicos, e no prolongamento, modificação ou ampliação dos já existentes.
- II- A infraestrutura básica dos parcelamentos é constituída pelos equipamentos urbanos de escoamento das águas pluviais, iluminação pública, esgotamento sanitário, abastecimento de água potável, energia elétrica pública e domiciliar e vias de circulação.
- III- O projeto de loteamento e desmembramento deverá ser aprovado pela Prefeitura Municipal.
- IV- O projeto aprovado poderá ser executado a qualquer tempo.

Somente está CORRETO o que se afirma em:

- a) II, III, e IV
- b) I, II e III.
- c) II e III.
- d) I e IV.
- e) III.

37ª QUESTÃO

São instrumentos da política urbano, EXCETO:

- a) Outorga onerosa do direito de construir.
- b) Direito de preempção.
- c) Oferta de equipamentos urbanos e comunitários.
- d) Operações urbanas consorciadas.
- e) Parcelamento, edificação ou utilização compulsórios.

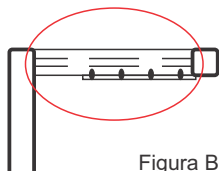
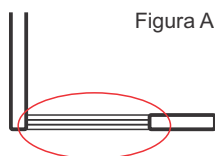
38ª QUESTÃO

Medindo sobre um desenho 6,9 cm, qual é o comprimento que deve ser marcado em campo (na obra) em m ? Considere a escala 1:100.

- a) 690 m.
- b) 69 m.
- c) 6,9 m.
- d) 0,69 m.
- e) 138 m.

39ª QUESTÃO

Os destaques nas figuras A e B são, respectivamente, representações gráficas de:



- a) Janela comum e janela alta.
- b) Janela alta e janela comum.
- c) Janela comum e porta de giro.
- d) Porta de giro e janela comum.
- e) Porta de correr e porta de giro.

40ª QUESTÃO

Acerca da elaboração do projeto de arquitetura, analise as seguintes assertivas:

- I- O Estudo Preliminar constitui a configuração inicial da solução arquitetônica proposta para a obra (partido).
- II- O Anteprojeto consiste no conjunto dos elementos necessários e suficientes à execução completa da obra ou do serviço.
- III- Projeto executivo constitui a configuração final da solução arquitetônica proposta para a obra, considerando todas as exigências contidas no programa de necessidades.

Está CORRETO o que se afirma em:

- a) I e III, apenas.
- b) I, II e III.
- c) II e III, apenas.
- d) I, apenas.
- e) III, apenas.