



# PREFEITURA MUNICIPAL DE SERRA BRANCA - PB

## NÍVEL FUNDAMENTAL

### CARGOS:

**Auxiliar de Serviços Gerais - Agente de Saúde -  
Cozinheiro - Motorista D - Operador de Retroescavadeira -  
Operador de Motoniveladora - Operador de Trator de Esteira -  
Pedreiro - Porteiro - Vigia**

### EXAME GRAFOTÉCNICO:

(Transcreva a frase abaixo no local indicado na sua Folha de Respostas)

**«Se querer é poder, querer é vencer.»**

### INSTRUÇÕES:

- 01** Verifique se este caderno de provas contém **40 (quarenta)** questões de múltipla escolha, sendo Português de **01 a 20**, Matemática de **21 a 30** e Conhecimentos Gerais de **31 a 40**.
- 02** Observe se há falhas ou imperfeições gráficas que causem dúvidas. Caso existam, comunique imediatamente ao Fiscal de Sala.
- 03** Verifique se os dados existentes na Folha de Respostas conferem com os dados do Cartão de Inscrição e da etiqueta afixada na sua carteira.
- 04** Esta Prova tem duração de **4 (quatro)** horas. Não é permitida a saída do candidato antes de esgotado o tempo mínimo de **2 (duas)** horas.
- 05** É vetado, durante a prova, o intercâmbio ou empréstimo de material de qualquer natureza entre os candidatos, bem como o uso de celulares, calculadoras e/ou qualquer outro tipo de equipamento eletrônico. A fraude, ou tentativa, a indisciplina e o desrespeito às autoridades encarregadas dos trabalhos são faltas que eliminam o candidato.
- 06** Assine, ao sair da sala, a **Lista de Presença** e entregue o seu Caderno de Prova e a Folha de Respostas, devidamente assinados, ao Fiscal de Sala. O Candidato poderá destacar o gabarito rascunho da última folha da prova, e levá-lo para sua conferência.



# PORTUGUÊS

Para responder às questões de 01 a 09, leia com atenção os textos abaixo.

## Texto I

Como cozinheiro sempre me preocupou os diversos problemas no mundo que possuem total relação com minha profissão, e acredito que seja fundamental uma atenção especial de todas as pessoas. O problema do desperdício de alimentos não é novo, ocorre um aumento considerável a cada ano, e a tendência é sempre piorar devido à pequena mobilização para que essa situação seja contornada.

Os números atuais sobre o desperdício de alimentos são de dois bilhões de toneladas sendo desperdiçadas, ou seja, metade de toda a comida produzida no mundo tem o lixo como o destino. Ao mesmo tempo em que tantos alimentos são desperdiçados, temos também o desperdício de água, terras cultiváveis, insumos agrícolas, tempo de trabalho e qualquer outra coisa usada na produção dos mesmos. A partir do momento em que tantos recursos estão sendo desperdiçados, o produtor também estará perdendo muito dinheiro.

Após analisar essa situação atual do desperdício de alimentos, nos deparamos com um problema gravíssimo, a questão da fome do mundo. Enquanto o mundo joga fora 2 bilhões de toneladas de alimentos no lixo, 1 bilhão de pessoas passam fome no mundo. Temos ao mesmo tempo, muita comida indo para o lixo, e muitas pessoas passando fome, comprovando que além de absolutamente tudo estar errado, é preciso fazer algo urgentemente. No mundo, a cada um minuto, cinco crianças morrem de desnutrição, e esses dados servem para refletirmos.

Existem uma série de maneiras em que se desperdiçam alimentos, e isso é desde o trabalho no campo, até o destino final que são os consumidores. A maior parte do desperdício hoje é durante o transporte e manuseio inadequado. Condições erradas de armazenamento e adoção de prazos de validade rigorosos também fazem parte disso. O consumidor também possui a sua parcela de culpa, principalmente pela preferência de produtos com formatos e cores específicas, e no desperdício no dia a dia em casa.


A situação do desperdício está completamente descontrolada, tendo em vista que países ricos desperdiçam quase a mesma quantidade de comida produzida em toda a África subsaariana. É normal em nossas vidas corridas e cheia de compromissos, esquecermos desse detalhe, mas é mais do que preciso virar os olhos pra isso, e começar a fazer algo.

Seja no transporte, no manuseio, no abastecimento, no armazenamento inadequado, ou nos simples desperdícios das pessoas, precisamos mudar em nome de tantas pessoas que passam fome diariamente, e morrem por causa da desnutrição.

*Dados da ONU e da BBC.*

Disponível em:> <http://www.petitgastro.com.br/desperdicio-de-comida-fome-mundial-e-a-necessidade-de-mudancas/><. Data da consulta: 12/12/2017.

## Texto II



Disponível em:> [http://4.bp.blogspot.com/-X\\_ZNbToruG8/Ua0LTFRr2bl/AAAAAAAAABo/spHdPZKGpzE/s1600/01cha\\_538.jpg](http://4.bp.blogspot.com/-X_ZNbToruG8/Ua0LTFRr2bl/AAAAAAAAABo/spHdPZKGpzE/s1600/01cha_538.jpg)<. Data da consulta: 12/12/2017.

## 01ª QUESTÃO

Atentar com atenção às afirmações abaixo e, em seguida, responder o que se pede.

- I- O texto II, ao denunciar a temática da fome, convivendo lado a lado, com a alta tecnologia, sugere que, apesar dos avanços tecnológicos de que a humanidade usufruiu, o homem ainda não conseguiu debelar o grande mal da fome, hoje.
- II- Não se pode estabelecer nenhuma relação temática entre os textos acima, já que a fome, referenciada no texto II, não decorre, sob nenhuma hipótese, dos problemas de desperdício de alimentos elencados no texto I.
- III- De acordo com o que sugere o autor do texto I, há uma indissociabilidade entre fome no mundo e desperdício de alimentos.
- IV- Dentre as estratégias argumentativas utilizadas para escrever o texto I, o seu autor não se utilizou de dados estatísticos.

É CORRETO o que se afirma apenas em

- a) I, II e III.
- b) I e III.
- c) II e IV.
- d) I, II e IV.
- e) I e IV.

### 02ª QUESTÃO

A semelhança sonora entre as palavras “IPHONE” E “IPHOME”, no texto II, considerando-se todos os elementos que remetem à denúncia veiculada na charge, pode sugerir que a melhor palavra que pode explicar a relação entre fome no mundo e alta tecnologia é

- |                 |                |
|-----------------|----------------|
| a) afetividade  | d) romantismo  |
| b) concordância | e) contradição |
| c) ilusão       |                |

### 03ª QUESTÃO

Ainda de acordo com o texto I, o transporte e o manuseio inadequados de alimentos, as condições equivocadas de armazenamento, bem como a adoção de prazos de validade rigorosos, em relação ao problema do desperdício, caracterizam-se como

- |                      |            |
|----------------------|------------|
| a) formas de combate | d) modelos |
| b) efeitos           | e) causas  |
| c) negação           |            |

### 04ª QUESTÃO

Nos enunciados “MEU IPHONE ESTÁ TOCANDO”, e “MEU IPHOME ESTÁ TOCANDO”, presentes no texto II, as partes assinaladas, assumem, respectivamente, no contexto, sentidos

- denotativo e denotativo.
- conotativo e denotativo.
- denotativo e conotativo.
- conotativo e conotativo.
- antônimos em ambas as situações.

### 05ª QUESTÃO

Na sentença “É normal em nossas vidas corridas e cheia de compromissos, esquecermo-nos desse detalhe, mas é mais do que preciso virar os olhos pra isso, e começar a fazer algo” a melhor palavra que substitui a expressão sublinhada, sem prejuízo final de sentido, é

- urgente
- desnecessário
- bom
- plausível
- romântico

### 06ª QUESTÃO

No enunciado “Após analisar essa situação atual do desperdício de alimentos, nos deparamos com um problema gravíssimo, a questão da fome do mundo. Enquanto o mundo joga fora 2 bilhões de toneladas de alimentos no lixo, 1 bilhão de pessoas passam fome no mundo”, extraído do texto I, as partes assinaladas, do ponto de vista morfológico, classificam-se, respectivamente, como

- pronome – pronome – adjetivo – numeral – adjetivo – interjeição.
- numeral – artigo – numeral – numeral – numeral – substantivo.
- pronome – adjetivo – numeral – numeral – preposição – adjetivo.
- numeral – preposição – artigo – numeral – numeral – verbo.
- pronome – adjetivo – artigo – numeral – preposição – substantivo.

### 07ª QUESTÃO

Atente ao enunciado abaixo e, em seguida, responda ao que se pede.

Acerca das palavras assinaladas em “ao mesmo tempo em que tantos alimentos são desperdiçados, temos também o desperdício de água, terras cultiváveis, insumos agrícolas...”, julgue cada uma das assertivas abaixo.

- Todas acentuam-se graficamente pela mesma regra.
- Apenas uma delas é proparoxítona.
- Temos três paroxítonas.
- Todas são adjetivos.

Está CORRETO, apenas, o que se afirma em

- |                 |              |
|-----------------|--------------|
| a) II e IV.     | d) II e III. |
| b) I e IV.      | e) I e III.  |
| c) I, II e III. |              |

### 08ª QUESTÃO

A partícula “que”, do ponto de vista gramatical, pode representar várias categorias morfológicas e/ou funções sintáticas distintas. Neste sentido, no enunciado “Existem uma série de maneiras em que se desperdiçam alimentos, e isso é desde o trabalho no campo, até o destino final que são os consumidores”, pode-se afirmar que os termos assinalados, do ponto de vista morfológico, são

- a) conjunções integrantes.
- b) pronomes pessoais do caso reto.
- c) pronomes relativos.
- d) adjetivos.
- e) aposto.

### 09ª QUESTÃO

O enunciado “Metade de toda a comida produzida no mundo tem o lixo como o destino” pode ser reescrito de muitas maneiras sem que, necessariamente, não se comprometa o seu sentido original. Indique, dentre as orações abaixo, a que melhor traduz o sentido do enunciado acima.

- a) Metade de toda a comida que é produzida no planeta destina-se ao lixo.
- b) Cinquenta por cento de toda a comida produzida no mundo do lixo tem o lixo como o destino.
- c) A maioria de toda a comida que é produzida no planeta destina-se ao lixo.
- d) Metade de toda a comida que é produzida no planeta conserva-se no lixo.
- e) A avassaladora maioria de toda a comida que é produzida no planeta Terra vai para lixo.

Para responder as questões de 10 a 13 atente aos textos a seguir.

#### Texto III



Disponível em: > <https://www.google.com.br/search?q=publicidade+com+erros+de+portugues&tbn=isch&tbs=ring:<>. Data da consulta: 10/12/2017.

#### Texto IV



Disponível em: > <https://www.google.com.br/search?q=publicidade+com+erros+de+portugues&tbn=isch&tbs=ring:C:<>. Data da consulta: 10/12/2017.

### 10ª QUESTÃO

A quantidade palavras que apresentam erros ortográficos nos textos III e IV, de acordo com a norma padrão da Língua Portuguesa, é

- a) 03.
- b) 04.
- c) 02.
- d) 05.
- e) 01 apenas.

### 11ª QUESTÃO

Com base nas informações contidas nos textos, III e IV, julgue cada uma das assertivas abaixo.

- I- De uma maneira geral os desvios ortográficos, em ambos os textos, não comprometem a clareza e a eficácia das informações neles veiculadas.
- II- No texto III, as palavras “ceja” e “esprimente” geram sérios problemas de compreensão e eficácia na informação por ele veiculada.
- III- Os desvios ortográficos acima, provenientes de textos que são construídos por “escritores” de baixo grau de letramento, não merecem nenhuma credibilidade linguística já que são desprovidos de qualquer sentido.

Está CORRETO o que se afirma em

- a) I.
- b) I e III.
- c) II e III.
- d) II.
- e) I, II e III.

### 12ª QUESTÃO

Na expressão “SUPERMERCADO PONTO SERTO” a parte sublinhada, neste contexto, classifica-se, enquanto categoria gramatical, como

- a) aposto especificativo.
- b) vocativo.
- c) aposto qualificativo.
- d) aposto nominativo.
- e) interjeição.

### 13ª QUESTÃO

Acerca dos sujeitos sintáticos presentes no período “CEJA BEM VINDO” e “ESPRIMENTE A LINGUIÇA” julgue cada um dos enunciados abaixo.

- I- São rigorosamente iguais nos dois enunciados: VOCÊ/ELE(A). (3ª pessoa do singular)
- II- São rigorosamente iguais nos dois enunciados: TU. (2ª pessoa do singular)
- III- São, respectivamente, VOCÊ e TU.
- IV- São, respectivamente, VOCÊ e inexistente.
- V- Em ambas as sentenças são indeterminados.

É CORRETO o que se afirma apenas em

- a) III.
- b) I.
- c) II.
- d) V.
- e) IV.

### 14ª QUESTÃO

A pontuação é um mecanismo de organização das sentenças e, com efeito, dos textos bastante importante, porque pode transformar completamente os seus efeitos finais de sentido. Neste sentido, observe, cuidadosamente, cada uma das sentenças abaixo, que apresentam diferentes usos dos sinais de pontuação e, em seguida, responda o que se pede.

- I- Aceito, obrigado.
- II- Aceito obrigado.
- III- Esse, juiz, é corrupto.
- IV- Esse juiz é corrupto.
- V- Não, espere.
- VI- Não espere.

Assinale a alternativa CORRETA acerca do que se deduz das afirmações acima.

- a) Em V e VI as mudanças na posição da vírgula não interferem no efeito final de sentido que se deseja expressar.
- b) Em V, alguém solicita a seu interlocutor para que este não espere; enquanto que em VI o enunciador solicita a seu interlocutor que este espere.
- c) Em II, ocorre o agradecimento pela aceitação; já em I, ocorre a revelação da obrigação do aceite.
- d) Em III, alguém, dirigindo-se ao juiz, enuncia que uma terceira pessoa é corrupta. Já em IV, o enunciador acusa o juiz de corrupção.
- e) A palavra ACEITO, em I e II, pertence à categoria gramatical dos adjetivos.

Texto para as questões de 15 a 18.

#### Texto V

Eu estou pensando em você hoje porque é Natal, e eu lhe desejo felicidade.  
E amanhã, porque será o dia seguinte ao Natal,  
Eu ainda lhe desejarei felicidade.  
Eu posso não ser capaz de lhe falar sobre isto diariamente,  
Porque eu posso estar ausente, ou nós podemos estar muito ocupados.  
Mas isso não faz diferença.  
Meus pensamentos e meus desejos estarão com você da mesma forma.  
Qualquer alegria ou sucesso que você tenha, me fará feliz. Me iluminará por todo ano.  
Eu desejo a você o Espírito do Natal.

(Van Dike. Disponível em: > [https://www.pensador.com/textos\\_de\\_natal/](https://www.pensador.com/textos_de_natal/)<. Data da consulta: 13/12/2017.

### 15ª QUESTÃO

A ideia central do texto se refere ao fato de que

- a) o espírito natalino, mais que um projeto de busca de um estado de felicidade, é temporal e efêmero.
- b) os pensamentos positivos e desejos de realização se potencializam temporariamente no Natal, em dezembro.
- c) a presença física é condição indissociável para a realização da felicidade.
- d) as ocupações do cotidiano são empecilhos à plenitude e realização dos projetos de realização natalinos.
- e) o espírito natalino, e o que ele pode suscitar, deve se propagar por todo o ano.

### 16ª QUESTÃO

Como sabemos, o sujeito de uma oração, que deve íntima concordância com o verbo desta mesma oração, refere-se ao ser (coisa, pessoa, entidade, objeto etc) acerca do qual se afirma algo (ou alguma coisa). A partir desta informação, o sujeito sintático do enunciado “Mas isso não faz diferença” é

- a) “diferença” e se classifica como simples.
- b) “Mas” e se classifica como simples.
- c) “isso” e se classifica como simples.
- d) “Mas isso” e se classifica como composto.
- e) “não” e se classifica como simples.

No enunciado “eu lhe desejo felicidade” temos a seguinte situação sintática, do ponto de vista de transitividade verbal:

- o verbo desejar, neste contexto, é apenas transitivo indireto (VTI) com o pronome “lhe” assumindo a função sintática de objeto indireto.
- o verbo desejar, neste contexto, é apenas transitivo direto (VTD) com o pronome “lhe” assumindo a função sintática de objeto direto.
- o verbo desejar, neste contexto, é bitransitivo (VTDI) com o pronome “lhe” assumindo a função sintática de objeto direto e “felicidade”, objeto indireto.
- o verbo desejar, neste contexto, é bitransitivo (VTID) com o pronome “lhe” assumindo a função sintática de objeto indireto e “felicidade”, objeto direto.
- Embora o verbo desejar seja, neste contexto, bitransitivo (VTID), exige apenas um complemento verbal obrigatória, isto é, um objeto direto.

## 18ª QUESTÃO

Nos enunciados “Eu estou pensando em você” e “Eu ainda lhe desejarei felicidade” temos, respectivamente, os seguintes predicados:

- nominal e nominal.
- nominal e verbal.
- verbal e verbal.
- verbal e verbo-nominal.
- verbo-nominal e verbal.

Texto para as questões 19 e 20.

## Texto VI



Disponível em: > <https://www.google.com.br/search?q=charges+sobre+a+politica+brasileira+atual&tbm=isch&:> <. Data da consulta: 13/12/2017.

## 19ª QUESTÃO

De acordo com as pistas textuais, sugeridas na charge, a palavra responsável por desencadear o duplo sentido, gerador do humor, no diálogo, é:

- “Oração”.
- “Sujeito”.
- “Mané”.
- “Quem”.
- “Políticos”.

## 20ª QUESTÃO

Na charge, sugerem-se, pelo menos, dois discursos, que são:

- o da ingenuidade política da professora, que desconhece os saberes dos seus alunos além da sala de aula; e o da conscientização política do alunado na atualidade, cada vez mais crescente.
- o pedagógico, encabeçado pela professora, cuja ação se limita meramente ao ensino dos aspectos gramaticais da língua portuguesa; e o do aluno, que transcende as questões gramaticais e incorpora uma crítica explícita à falta de credibilidade na visão que o cidadão comum tem da classe política na atualidade.
- o do atraso do ensino brasileiro, metaforizado no discurso da professora; e o do avanço das novas tecnologias, suscitado, indiretamente, na fala do aluno.
- o do atraso dos recursos pedagógicos utilizados em sala de aula, que tornam as aulas pouco atrativas; e o do elevado grau de conscientização política de nossos alunos brasileiros, sobretudo os da rede privada de ensino.
- o da desnecessidade dos ensinamentos acerca das questões que envolvem a nossa língua materna; e o da necessidade urgente de se introduzir recursos pedagógicos cada vez mais atraentes e adequados aos novos tempos.

# MATEMÁTICA

## 21ª QUESTÃO

Um motorista deseja viajar de ida e volta, de Campina Grande a João Pessoa, cuja distância total é 240 quilômetros. No posto A o preço do combustível custa 3,78 reais. Com este combustível o consumo do veículo é de 9,8 km/litros. Já no posto B o preço do combustível operado é de 3,72 reais, com consumo de 9,2 km/litros. Para o motorista fazer a referida viagem de ida e volta, em que posto ele gastará menos para abastecer e quanto ele gastará aproximadamente com gasolina?

- a) Posto A - 102,81 reais.
- b) Posto A - 92,53 reais.
- c) Posto B - 97,88 reais.
- d) Posto B - 96,81 reais.
- e) Posto A - 46,40 reais.

## 22ª QUESTÃO

Uma lanterna é colocada em um ponto P de uma circunferência. Ela produz um feixe de luz que tem o formato da Figura 01, onde O é o centro da circunferência. Se a distância  $\overline{PM} = 4m$  e o arco  $\widehat{CD} = 60^\circ$  então a distância  $\overline{PB}$  vale

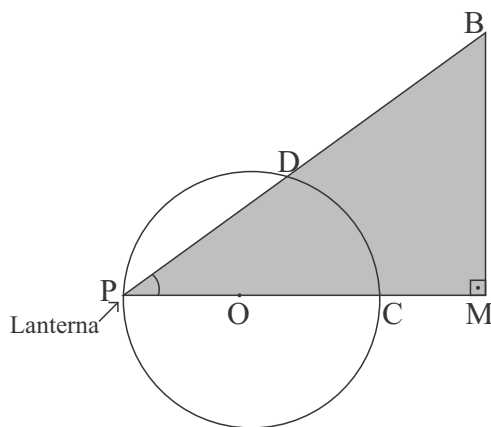


Figura 01

- a)  $8\sqrt{2}$  metros.
- b)  $6\frac{\sqrt{2}}{5}$  metros.
- c)  $8\frac{\sqrt{3}}{3}$  metros.
- d)  $4\sqrt{3}$  metros.
- e)  $4\frac{\sqrt{3}}{3}$  metros.

## 23ª QUESTÃO

Em um hospital a técnica de enfermagem Raquel trabalha em plantão de três em três dias; a enfermeira chefe, Nanci, de seis em seis dias; e a médica Sandra de oito em oito dias. Sabendo que elas trabalharam juntas no dia 01 de janeiro de 2018, qual a próxima data em que elas irão trabalhar juntas novamente?

- a) 25 de janeiro de 2018.
- b) 28 de janeiro de 2018.
- c) 29 de janeiro de 2018.
- d) 02 de fevereiro de 2018
- e) 07 de fevereiro de 2018.



**24ª QUESTÃO**

Um aluno encontrou o número 6 como soma das raízes da equação  $x^2 + (m + 1)x + 3 = 0$ . Sabendo que ele errou a soma pelo acréscimo de duas unidades, podemos afirmar que o valor de  $m$  é igual a

- a) 4.
- b) 5.
- c) 8.
- d) -5.
- e) 2.

**25ª QUESTÃO**

Um químico em uma experiência coloca em um barril 70 litros de álcool e água na relação de 3 por 2 respectivamente. Quantos litros de água o químico deve adicionar ao barril para que a relação seja de 9 por 7?

- a) 23.
- b) 26.
- c) 27.
- d) 18.
- e) 37.

**26ª QUESTÃO**

Quais devem ser os valores de  $m$ ,  $n$  e  $k$ , respectivamente, para que os polinômios  $p(x) = 2x^2 + (5m + 3)x + 2$  e  $q(x) = (n + 1)x^2 + (n + 17)x + 2k$  sejam iguais?

- a)  $m = 5, n = 3$  e  $k = 3$ .
- b)  $m = -3, n = -1$  e  $k = 1$ .
- c)  $m = -3, n = 2$  e  $k = 3$ .
- d)  $m = 3, n = 1$  e  $k = 1$ .
- e)  $m = 3, n = 3$  e  $k = 3$ .

**27ª QUESTÃO**

Um escritor contrata uma gráfica para imprimir o seu livro, de 382 páginas. A gráfica cobra 35 centavos por folha impressa. O dono da gráfica resolve bonificar o escritor não cobrando a impressão de 52 páginas e ainda dar um desconto de 20% no valor a ser pago. Nestas condições o escritor pagou pela impressão do livro em reais

- a) 23,10.
- b) 115,50.
- c) 92,40.
- d) 99,40.
- e) 133,70.

**28ª QUESTÃO**

Uma empresa de táxi cobra 5,00 reais pela bandeirada e mais 2,00 reais por quilômetro rodado; e uma empresa de aplicativo de transporte cobra 2,50 por quilômetro rodado. Para um percurso de 12 quilômetros é melhor ir de táxi ou pela empresa de aplicativo de transporte e qual o menor valor a ser pago em reais?

- a) Empresa de aplicativos por 26,00.
- b) Empresa de aplicativo por 29,00.
- c) Táxi por 30,00.
- d) Empresa de aplicativos por 27,00.
- e) Táxi por 29,00.

### 29ª QUESTÃO

Dois jovens, um dirigindo o carro **A** e o outro o carro **B**, se envolvem em um acidente. Eles colidem cada um em uma árvore as quais se quebram conforme a Figura 02. Baseado nos dados da Figura 02, qual a distância, em metros, entre os carros A e B?

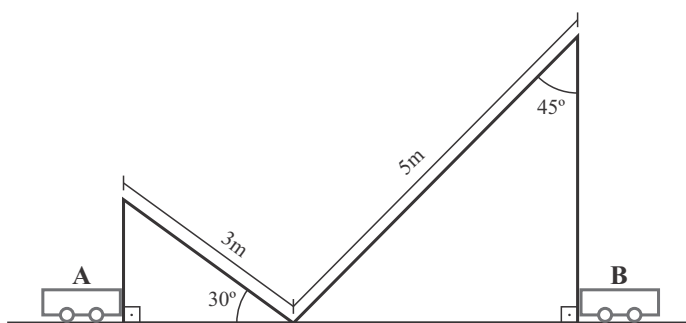


Figura 02

- a)  $3 \frac{\sqrt{3}}{2}$   $5 \frac{\sqrt{2}}{2}$  metros
- b)  $3 \frac{\sqrt{2}}{2}$   $5 \frac{\sqrt{5}}{2}$  metros
- c)  $\frac{\sqrt{3}}{2}$   $\frac{\sqrt{2}}{2}$  metros
- d)  $12 \frac{\sqrt{3}}{2}$   $15 \frac{\sqrt{2}}{2}$  metros
- e)  $3 \frac{\sqrt{3}}{2}$   $5 \frac{\sqrt{7}}{2}$  metros

### 30ª QUESTÃO

Dado um triângulo  $\triangle ABC$ , considere os pontos  $N$  e  $M$  nos segmentos  $\overline{AC}$  e  $\overline{BC}$ , respectivamente, tais que  $\overline{AN} = \overline{BN} = \overline{BM}$  e a medida do ângulo  $\widehat{BNM} = 55^\circ$ . Neste caso, podemos afirmar que a medida da diferença dos ângulos  $\widehat{BAN} - \widehat{BCA}$  vale

- a)  $75^\circ$ .
- b)  $80^\circ$ .
- c)  $100^\circ$ .
- d)  $60^\circ$ .
- e)  $70^\circ$ .

## CONHECIMENTOS GERAIS

### 31ª QUESTÃO

Folheando o livro de crônicas *Vida Urbana* (1956), é possível perceber que o escritor pré-modernista Lima Barreto já demonstrava certa inquietude com a questão da violência na cidade do Rio de Janeiro no início do século XX. Orientando-se pelos fatos cotidianos da época, esse literato nos aponta que não é de hoje que a violência é um problema que tem mobilizado esforços de pensadores e intelectuais.

Sobre a violência urbana é CORRETO afirmar que

- a) a população brasileira tem confiança na efetiva e eficaz segurança pública que tem inibido o crescimento da violência urbana.
- b) é um fenômeno especificamente das grandes cidades brasileiras, não atingindo as de médio porte, como as do interior do Nordeste.
- c) tem como principal causa o êxodo urbano que marca o Brasil na segunda metade do século XX, devido ao processo de industrialização.
- d) tem como causas exclusivas o tráfico de drogas e a existência das milícias nos grandes centros urbanos do país.
- e) assombra os moradores urbanos do Brasil, modificando comportamentos e formas de conviver nos espaços públicos e de habitar as cidades.

### 32ª QUESTÃO

Pode-se afirmar que desenvolvimento sustentável é a capacidade de utilizar os recursos e os bens da natureza sem comprometer a disponibilidade desses elementos para as gerações futuras. Marque V (VERDADEIRA) nas assertivas que indicam uma prática que caracteriza exemplo de desenvolvimento sustentável e F (FALSA) naquelas que não caracterizam uma atitude de desenvolvimento sustentável:

- ( ) Promover à utilização de produtos descartáveis, como copo de plástico, para dinamizar o aumento do consumo, aquecendo a economia.
- ( ) Reflorestamento desenvolvido por ações empresariais.
- ( ) Reciclagem de resíduos sólidos nas grandes cidades.
- ( ) Reutilização da água proveniente do esgoto para atividades industriais.
- ( ) Incentivo a utilização de fontes renováveis de energia.

Assinale a alternativa CORRETA:

- a) V, V, V, V, F.
- b) V, V, F, F, V.
- c) F, V, V, V, V.
- d) F, V, V, F, V.
- e) F, F, V, V, V.

### 33ª QUESTÃO

Analise as proposições a seguir.

- I- A crise que atinge a economia brasileira nos últimos meses vem afetando o emprego e a renda da população.
- II- O aumento populacional nas cidades, aliado a uma sociedade extremamente consumista, faz gerar vários problemas ambientais.
- III- Um dos objetivos do sistema capitalista é o consumo e, para isso, uma série de artifícios é usada para que as pessoas aumentem gradativamente o seu consumo, muitas vezes desnecessariamente.

Com base nas afirmações a cima é CORRETO o que se afirma em:

- a) I, II e III.
- b) I e II apenas.
- c) II e III apenas.
- d) I e III apenas.
- e) I apenas.

### 34ª QUESTÃO

A sociedade brasileira é constituída por diferentes grupos étnico-raciais que a caracterizam, em termos culturais, como uma das mais ricas do mundo. A partir da assertiva acima está CORRETO o que se afirma em:

- a) O Brasil, devido ao fato de um país constituído por diferentes grupos étnico-raciais, é um modelo social de democracia racial para as sociedades contemporâneas.
- b) Atualmente só podemos encontrar conflitos étnicos no Nordeste do Brasil devido ao processo de colonização ter sido forte nesta área.
- c) No Brasil os negros não convivem com discriminações porque o processo de libertação dos escravos no século XIX os tornou livres e iguais perante todos.
- d) Há na sociedade brasileira atual uma efetiva democracia social que garante o bem-estar para todas as etnias que vivem no país.
- e) A história do Brasil é marcada por desigualdades e discriminações, tais como as relacionadas com os negros e os indígenas.

### 35ª QUESTÃO

Analise as proposições a seguir.

- I- No dia 9 de novembro de 1989, após o sistema socialista entrar em crise no Leste da Europa, e com o fim deste sistema na Alemanha Oriental, cidadãos foram às ruas comemorar e ajudaram a derrubar o muro de Berlim.
- II- A queda do Muro de Berlim, além de representar o fim da separação da Alemanha, simbolizou também o fim da Guerra Fria e o começo da reintegração alemã.
- III- A partir de 3 de outubro de 1990, as duas Alemanha, duas nações independentes, se uniram com uma fusão econômica, monetária e política. A antiga Alemanha Oriental, que era socialista, adotou o capitalismo abolindo a propriedade estatal dos meios de produção e integrando a sua população ao novo sistema legal, trabalhista e social da antiga Alemanha Ocidental.

Está CORRETO o que se afirma em:

- a) I apenas.
- b) I e II apenas.
- c) II e III apenas.
- d) I, II e III.
- e) II apenas.

### 36ª QUESTÃO

O calendário das Eleições Gerais do Brasil, em 2018, aprovado pelo Plenário do Tribunal Superior Eleitoral (TSE), define que o Primeiro Turno, e nos casos do Segundo Turno, ocorrerá, respectivamente, nas seguintes datas

- a) 7 e 28 de outubro.
- b) 7 e 28 de novembro.
- c) 7 de outubro e 15 de novembro.
- d) 15 de novembro e 8 de dezembro.
- e) 7 de setembro e 7 de outubro.

### 37ª QUESTÃO

As fontes de energia renováveis, são aquelas em que a sua utilização e uso é renovável, sendo aproveitado ao longo do tempo sem possibilidade de esgotamento dessa mesma fonte.

Assinale a alternativa que corresponde a uma fonte de energia renovável:

- a) Carvão Mineral.
- b) Etanol.
- c) Petróleo.
- d) Gás Natural.
- e) Urânio.

### 38ª QUESTÃO

Um dos principais problemas que assolam a sociedade atual é a acumulação do lixo em locais inapropriados. Assinale a alternativa que corresponde a um desses lugares.

- a) Usinas de Incineração.
- b) Aterros Sanitários.
- c) Lixões a céu aberto.
- d) Usinas de Compostagem.
- e) Usinas Termoelétricas para lixo.

### 39ª QUESTÃO

Atentar à afirmação abaixo e, em seguida, responda o que se pede.

Aumento contínuo e generalizado dos preços de uma economia que diminui a capacidade de consumo de uma população como a do Brasil. Estamos falando de:

- a) Deflação.
- b) Superávit.
- c) Déficit Público.
- d) Inflação.
- e) Redistribuição de Renda.

### 40ª QUESTÃO

Ler com atenção a afirmação abaixo e, em seguida, responda o que se pede.

O bom cidadão é geralmente um bom pedestre, um bom ciclista, motorista, pois reconhece os seus deveres e direitos também no trânsito.

Considerando esta temática, assinale a alternativa que caracteriza um direito do cidadão.

- a) Atravessar sempre em linha reta, pisando firme sem correr.
- b) Prioridade de passagem do pedestre quando este estiver atravessando a via sobre as faixas delimitadas para esse fim, exceto nos locais com sinalização semafórica.
- c) Olhar atentamente para os lados ao descer de um carro ou ônibus e esperar sempre que o veículo saia para então atravessar a via.
- d) Atravessar sempre andando na faixa de pedestres.
- e) Aguardar a passagem do veículo ou que ele pare para atravessar uma via.



